

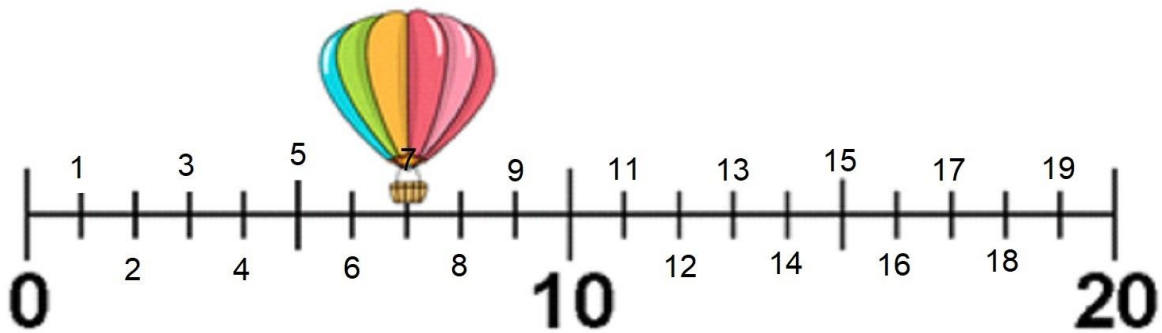
DATUM:	ČETRTEK, 14. 5. 2020
RAZRED:	1. A
PREDMET:	MATEMATIKA

1. ŠTEVILSKI TRAKOVI

Preštej števila na številskih trakovih, nato pa naredi spodnje naloge.



1	2	3	4	5	6	7	8	9	10
11	12	13	14	15	16	17	18	19	20



a) ŠTEJ OD 1 DO 20.

b) ŠTEJ OD 0 DO 20 PO 2 (0, 2, 4, ... 20).

c) ŠTEJ (nazaj) OD 20 DO 0.

č) ŠTEJ (nazaj) OD 20 DO 0 PO 2 (20, 18, 16, ... 0).

d) NA ŠTEVILSKEM TRAKU POKAŽI NASLEDNJA ŠTEVILA: 9, 13, 11, 15, 8, 7, 18, 20, 2, 14, 17, 19, 6, 4, 12






e) NA ŠTEVILSKEM TRAKU POKAŽI ŠTEVILO:

- KI JE PRED ŠTEVILOM 12,
- KI JE ZA ŠTEVILOM 14,
- KI JE MED ŠTEVILOM 16 IN 18,...

2. REŠI NALOGE V DZ ZA MATEMATIKO NA STRANEH 78 IN 79.



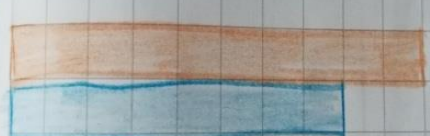


ŠTEVILA OD 16 DO 20

1. KOLIKO JAJC JE NA VSAKI SLIKI? DOPOLNI PREGLEDNICO.

 10 6	16	ŠESTNAJST
 10 7	17	SEDEMNAJST
 10 8	18	OSEMNAJST
 10 9	19	DEVETNAJST
 10 10	20	DVAJSET

2. PO ZGLEDU POBARVAJ KVADRATKE ZA VSA ŠTEVILA.

POBARVAJ.

	16
	17
	18
	19
	20