

MATEMATIKA

- ŠTEJ NAPREJ OD **0 DO 20** IN ZRAVEN POSKOČI MALO V ZRAK.
NATO ŠTEJ ŠE NAZAJ (**OD 20 DO 0**). KO ŠTEJEŠ NAZAJ, PA NAREDI ZA VSAKO ŠTEVILKO,
ŠE EN PLOSK – ENKRAT SPODAJ, DRUGIČ NAD GLAVO.
- VZEMI **123 ZVEZEK**. NAPIŠI **VAJA** IN DATUM TER PREPIŠI ŠTEVILA TAKO, KOT
PRIKAŽUJE SLIKA SPODAJ → »V CIK-CAKU«.
NA GLAS PREBERI ŠTEVILA OD 1 DO 15 NAPREJ IN NAZAJ.
RAČUNOV NE PREPISUJ. SAMO PREBERI JIH IN IZRAČUNAJ.


VAJA






1 5 9 13 14 15
2 4 6 8 10 11 12
3 7
15 14 12 11 10 8 7 6 5 4 3 2 1
13 9

$3 + 0 =$ $4 - 3 =$ $2 + 7 =$
 $4 + 4 =$ $5 - 2 =$ $4 - 0 =$
 $7 + 2 =$ $10 - 4 =$ $8 + 1 =$
 $2 + 6 =$ $8 - 5 =$ $9 - 5 =$
 $6 + 3 =$ $10 - 10 =$ $4 + 6 =$

- SEDAJ SI VZEMI ODMOR IN NAREDI VAJE **ZDRAVA ŠOLA**.
- NATO VZEMI ŠE **DZ**. ODPRI GA NA **STR.78** TER NAPIŠI, KAR MANJKA. POMAGAJ SI S TEM SPODAJ.
NAJPREJ PA VEDNO PREŠTEJ, KOLIKO JAJČK IMAŠ NA ZAČETKU VRSTICE.


ŠTEVILA OD 16 DO 20

 1. KOLIKO JAJC JE NA VSAKI SLIKI?
DOPOLNI PREGLEDNICO.

 10 6	16	ŠESTNAJST
 10 7	17	SEDEMNAJST
 10 8	18	OSEMNAJST
 10 9	19	DEVETNAJST
 10 10	20	DVAJSET



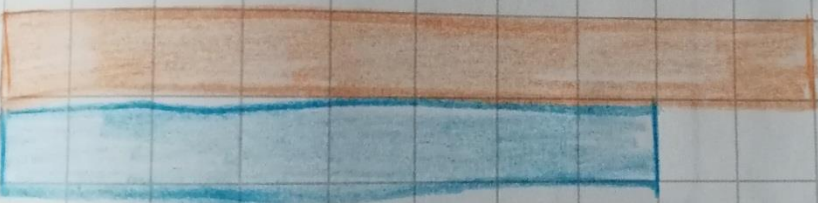
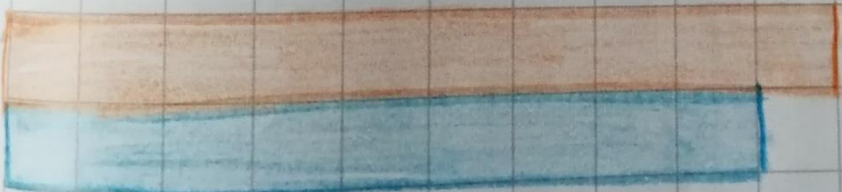

78

- ODPRI DZ ŠE NA **STR.79** IN NAREDI KAKOR SEM JAZ TO NAREDILA.

 2. PO ZGLEDU POBARVAJ KVADRATKE ZA VSA ŠTEVILA.

POBARVAJ.

5

	16
	17
	18
	19
	20