

MATEMATIKA

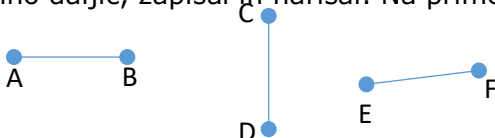
Navodilo za delo:

- Najprej si pogledjmo **REŠITVE** včerajšnjih nalog. **Si bil uspešen/-a?**




- Poljubno si izbral dolžino daljic, zapisal in narisal. Na primer:

$$\begin{aligned} |AB| &= 1,5 \text{ cm} \\ |CD| &= 1,5 \text{ cm} \\ |EF| &= 1,5 \text{ cm} \end{aligned}$$

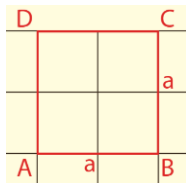


- Skladna lika izgledata takole:

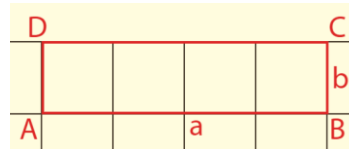


- Vzorec je poljuben.


- Kvadrat



Pravokotnik



- Danes reši **DZ, str. 60 in 61/ nal. 5, 6, 7, 8**. Pri risanju bodi natančen!
- V zvezek** napiši naslov **VAJA** in **nariši RAZGLEDNICO**. Pomagaj si z **geotrikotnikom**. **Upoštevaj vsa matematična pravila**. **Nato uporabi šablono in okras** s skladnimi liki npr. **znamko, stranice**.



- Se že veselim vaših kreacij. Neučakano pričakujem kakšno slikco.
- UŽIVAJ!**
- PS:** Kdor ima še kaj energije lahko rešuje Mojo matematiko pisno seštevanje in odštevanje. Domača naloga je odprta do petka.

učiteljica Katja