

Petek, 15. 5.

DRUŽBA

PONOVIMO :)

KATERA OBČINA JE NA ZEMLJEVIDU?



1. RAZGRNI ZEMLJEVID DOMŽAL.

2. Na zemljevidu **poišči**: NASLOV, DATUM (leto, kdaj je bil natisnjen), AVTORJA (kdo je naredil zemljevid) LEGENDO, MERILO. Vse te besede tudi **RAZLOŽI**. Razloži, kaj je to TLOVIS.


3. **Opiši lego Domžal**:

- Ali Domžale ležijo na ravnini ali vzpetini?
- Ob kateri reki se nahajajo?
- Kateri hrib je na V?
- Katere so pomembne prometnice - ceste?

Vse pokaži na zemljevidu.

4. Kaj ima zemljevid, kar letalska karta nima?

5. **Poišči 3 vode** v občini Domžale. S kakšno barvo so zapisane?



NARAVNE SESTAVINE POKRAJINE

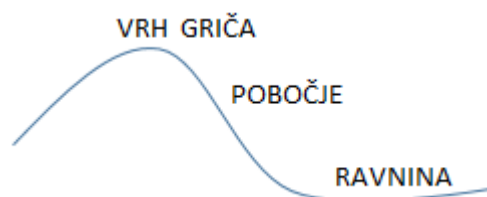
Preberi ali [poslušaj zapis](#):

Janezova družina ima veliko zemljišče, ki leži na **prisojni strani griča**. Razteza se na **ravnini, vse tja do reke**. Na zemljišču bi si radi zgradili hišo. Tla so precej **močvirnata**, ker reka pogosto poplavlja. **Grič ni porasel z gozdom**, zato bi se lahko zgodilo, da bi **ob veliki količini padavin, zemlja zdrsnila po pobočju na ravnino**. Kljub vsemu si njegova družina želi na zemljišču postaviti hišo

Naloga je vzeta iz spletne strani:

https://docs.google.com/presentation/d/1n90zBDq6GsIFIR8M4BjH6hPQd1v8yn2LGm6YhLhD-W4/present?slide=id.g773f8182c_c_0_3


KJE BI PO TVOJEM MNENJU LAHKO ZGRADILI HIŠO? Na ravnini, griču ali pobočju?



Zgradi jo lahko KJERKOLI, samo pri gradnji mora upoštevati NARAVNE RAZMERE.

KATERIM **NARAVNIM RAZMERAM** BI SE MORALA JANEZOVA DRUŽINA PRILAGODITI?

Slika iz učbenika na str. 63



POGLEJ IN PREBERI UČBENIK NA STR. 63, 64, 65. So več ali manj slike. ☺

Zapis v zvezek: NARAVNO SESTAVINO POKRAJINE (prst, relief, vode, kamnine, rastlinstvo, živalstvo, podnebje) napiši k ustreznima besedama, ki jo opisujeta.

NARAVNE SESTAVINE POKRAJINE

rodovitna	_____	nerodovitna
strmo	_____	položno
propustne	_____	slabo propustne
deževno	_____	suho
podzemna	_____	površinska
divje	_____	zaščitene
travniške	_____	zaščitene